

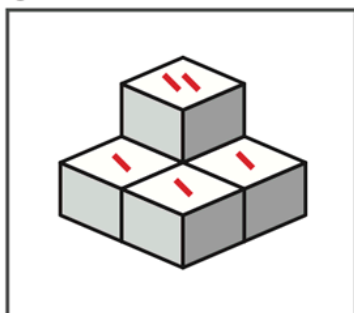


問題

積み木はいくつありますか。

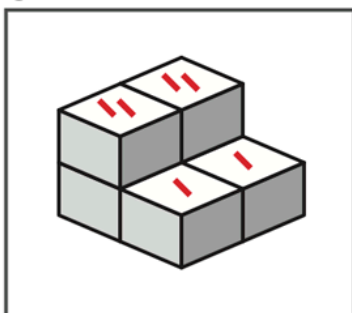
その数の数字に、○をつけましょう。

①



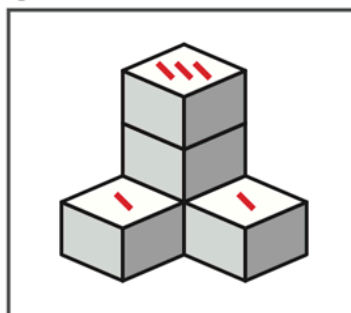
1	2	3	4	⑤
6	7	8	9	10

②



1	2	3	4	5
⑥	7	8	9	10

③



1	2	3	4	⑤
6	7	8	9	10

おうちの方へ

まず、実際に積み木を使って、問題と同じ形を作り、数を数えてみましょう。

プリントでは、積み木の上面に印（\）をつけながら数えます。

かくれて見えない積み木もあることに気づかせましょう。

※こちらはサンプルです。実際は、B4サイズになります。