


中学歴史

《原始・古代の日本と世界》

人類の出現と古代文明 1-3

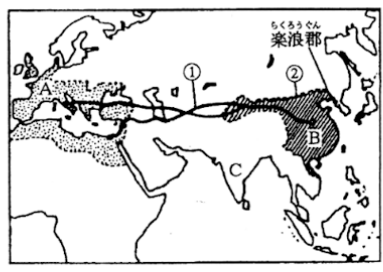
 _____ 月 _____ 日

【1】 2世紀ごろの世界を示している下の地図を見て、各問いに答えなさい。

(1) AとBの国名を書きなさい。

A [_____]

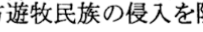
B [_____]



(2) 紀元前後に、A国に支配されていたユダヤ人の中から現れて、神を信じるものは誰でも救われると説いた人物は誰ですか。 [_____]

(3) Bの国が、政治の根本方針とした教えは何ですか。 [_____]

(4) AとBを結ぶ①の交通路を何といいますか。 [_____]

(5) 地図中の②の  は、北方遊牧民族の侵入を防ぐためにつくられたものです。これを何といいますか。また、これは、何王朝のときにつくられたものですか。
[_____] 王朝名 [_____]

(6) 紀元前5世紀ごろ、インドで、シャカによって開かれた宗教は何ですか。 [_____]

【2】 地図を見て、問いに答えなさい。

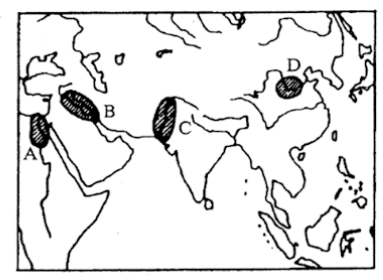
(1) 地図中のA～Dの地域でおこった文明の名称を書きなさい。

A [_____]

B [_____]

C [_____]

D [_____]



(2) 地図中のA～Dの地域に最も関係が深い事ごらを下のア～オから1つずつ選び、記号を書きなさい。

A () B () C () D ()

- ア. くさび形文字
- イ. こうこつ甲骨文字
- ウ. たいようれき太陽暦
- エ. としこっか都市国家
- オ. モヘンジョ=ダロ

(3) AとBをふくむ地域は、何とよばれていますか。 [_____]

(4) Cの地域に侵入してきたアーリア人がつくった身分制度は何ですか。 [_____]

(5) 紀元前1500年ごろ、Dの地域を統一して国をおこした王朝は何ですか。次から選び、記号を書きなさい。

- ア. いん殷
 - イ. しゅう周
 - ウ. しん秦
- [_____]



※こちらはサンプルです。実際は、B4になります。