

地理

都道府県の調査

第二編 いろいろな地域の調査

月  日

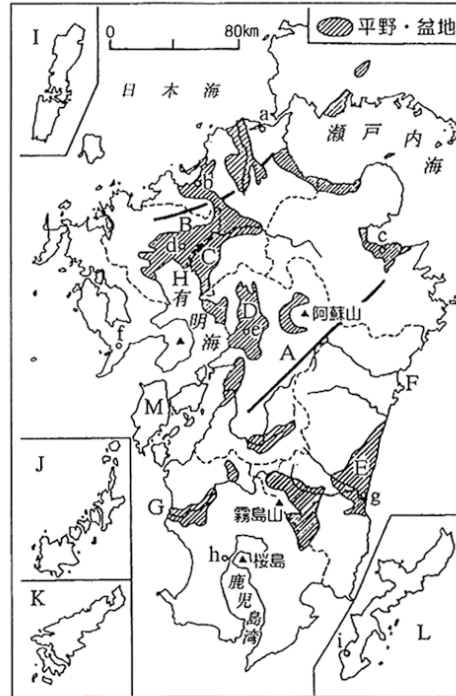
【1】次の地図を見て、各問いに答えなさい。

(1) 地図中のa～iの都市名を答えなさい。

- a (市)
- b (市)
- c (市)
- d (市)
- e (市)
- f (市)
- g (市)
- h (市)
- i (市)

(2) 地図中のA～Mの山地・平野・川・島の名称を答えなさい。

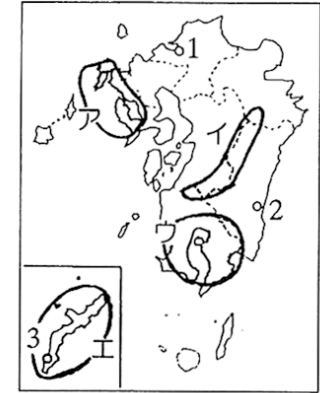
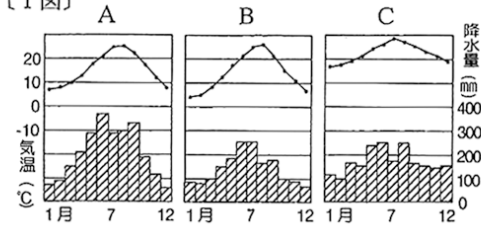
- | | |
|-----------------------------|-----------------------------|
| A (山地) | D (平野) |
| B (山地) | F (川) |
| C (平野) | H (川) |
| E (平野) | J (列島) |
| G (川) | L (島) |
| I () | M (諸島) |
| K (大島) | |



【2】次のI図・II図について、各問いに答えなさい。

〔II図〕

〔I図〕



(1) I図の雨温図は、II図の地図中の1～3のどの都市の気候を示したものです。それぞれ番号と都市名を答えなさい。

- A = 番号 () ・ 都市名 (市)
- B = 番号 () ・ 都市名 (市)
- C = 番号 () ・ 都市名 (市)

(2) 次のa～dの各文が説明しているのはII図中のア～エのどの地域のことですか。記号で答えなさい。

- a = 海岸線の出入りが多く、五島列島など多くの島々がある。 ()
- b = 高く険しい山地で九州を南北に分けている。 ()
- c = ほとんどが亜熱帯性の気候で、海岸には、珊瑚礁が数多く見られる。 ()
- d = 火山灰でおおわれた台地が広がっている。 ()

※こちらはサンプルです。実際は、B4サイズになります。