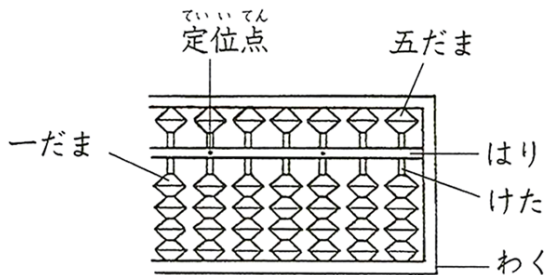


〈おぼえよう!〉

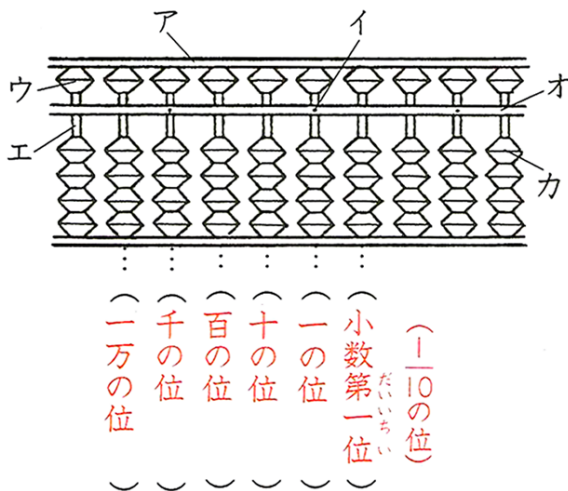
★ そろばんの読み方



※ 一だまは1こで1を表し、五だまは1こで5を表します。

※ そろばんでは、定位点のあるけたを一の位にきめ、それからじゅんに、十の位、百の位、…となります。

【1】 そろばんの図を見て、答えましょう。



(1) 図のア～カの名前を書きましょう。

ア ( わく ) イ ( 定位点 )

ウ ( 五だま ) エ ( けた )

オ ( はり ) カ ( 一だま )

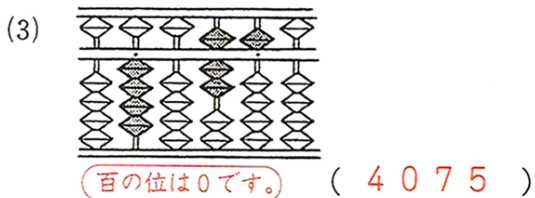
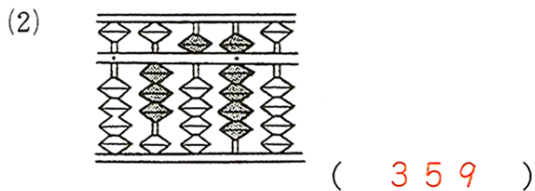
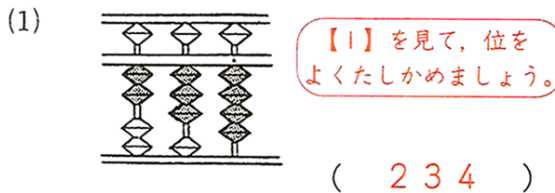
(2) 図の ( ) に位を書き入れましょう。

(3) ウのたまは、どの指を使って、入れたりはらったりしますか。

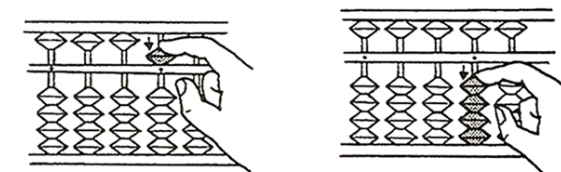
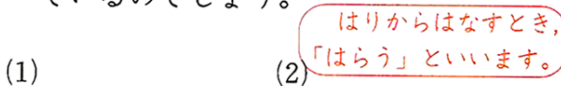
( 人さし指 )

そろばんは、親指と人さし指を使います。

【2】 次の数を数字で書きましょう。



【3】 次の指のうごきは、どんな数をどうしているのでしょうか。



はりにつけるとき、「入れる」といいます。

※こちらはサンプルです。実際は、B4サイズになります。