

【1】 □にあてはまる単位は何ですか。

(1) 1辺が1 cmの立方体の体積は□です。

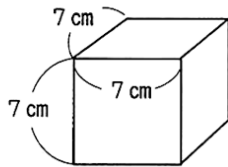
(2) 1辺が1 mの立方体の体積は□です。

(3) たて1 m, 横2 m, 高さが3 mの直方体の体積は6 □です。

【2】 次の体積を求めなさい。

(1)

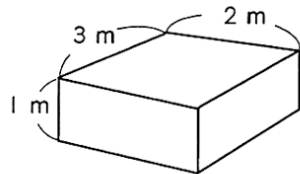
〈式〉



答え ()

(2)

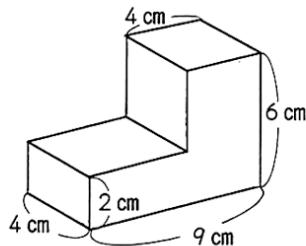
〈式〉



答え ()

(3)

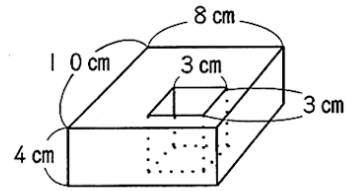
〈式〉



答え ()

(4)

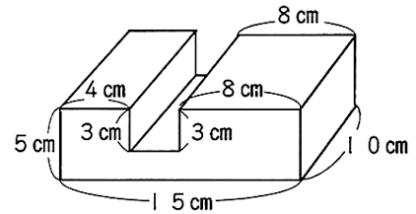
〈式〉



答え ()

(5)

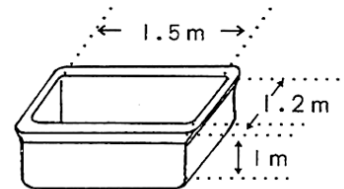
〈式〉



答え ()

【3】 下の図のような形をした浴そうに入る水の体積はおよそ何 m^3 ですか。

〈式〉



答え ()



まちがったところはやり直して、全部できたら○をつけよう。