

【1】ヘチマを育てようと思います。  
あとの問題に答えなさい。

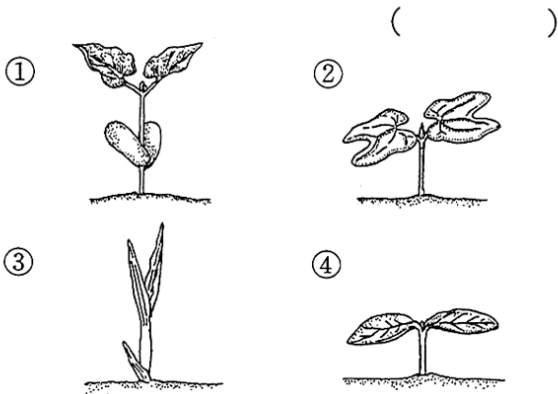
(1) ヘチマのたねは、どんなものを選ぶとよいですか。かんたんに書きなさい。  
( )

(2) ヘチマのたねは、どのくらいの深さに植えますか。  
よいものの記号に○をつけなさい。

ア 1~2cm      イ 10cmくらい

ウ 30cmくらい

(3) 下の絵の中で、ヘチマの芽はどれですか。  
番号で答えなさい。



(4) 芽が出て、葉が3~4まいになったので、花だんに植えかえました。  
正しい文の記号に○をつけなさい。

ア ヘチマを引きぬいて、根についた土を水でよく洗い落としてから花だんに植える。

イ 土ごと花だんに植えかえる。

ウ 花だんに植えかえたあとは、しばらく水をやらない。

エ 花だんに植えかえたら、水やりをする。

(5) くきが20~30cmになりました。  
何を作ってやるとよいですか。

( )

【2】次の文で、春のころを表しているものには○を、夏のころを表しているものには△を書きなさい。

( ) ヘチマのくきがどんだんのびている。

( ) モンシロチョウがアブラナの花にとまっている。

( ) キュウリの芽が出てきた。

( ) ツバメのすがたが見られるようになった。

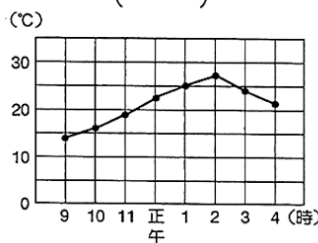
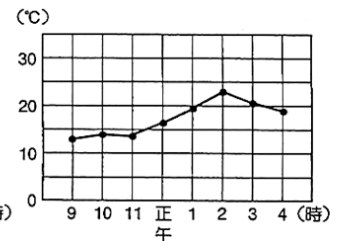
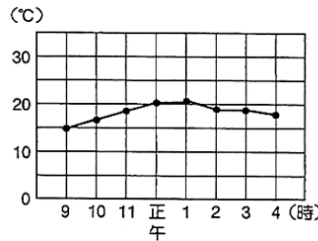
( ) アジサイの花がさいている。

( ) トノサマバッタのよう虫が、草むらの中にいる。

( ) サクラの花がちって、葉が出てきている。

【3】下の図は、1日の気温の変化を記録したものです。

それぞれの日の天気の様子をア~ウから選び、記号で答えなさい。



ア 1日中晴れていた。

イ 朝は雨がふっていたが、昼ごろから晴れてきた。

ウ 朝は晴れていたが、昼前ごろからくもり始め、やがて雨がふってきた。